

คู่มือเรียน-เตรียมสอบ  
ระดับชั้นประถมศึกษา



# ติวเข้ม แนวข้อสอบ

National Test

# NT



# ป.3

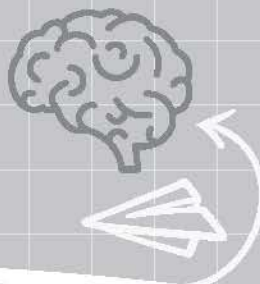


- เก็งข้อสอบใหม่ล่าสุดครอบคลุมทุกสาระการเรียนรู้  
ตามหลักสูตรแกนกลางขั้นพื้นฐาน พุทธศักราช 2551
- แนวข้อสอบจริง วัดทักษะครบทั้ง 3 ด้าน  
ภาษา การคำนวณ และการใช้เหตุผล  
พร้อมเฉลยอธิบายละเอียดชัดเจนทุกข้อ กว่า 450 ข้อ



ทีมติวเตอร์มหาวิทยาลัยธรรมศาสตร์  
และกองบรรณาธิการฝ่ายวิชาการประถมศึกษา สำนักพิมพ์ Think Beyond A+


250.-



# ติวเข้ม แนวข้อสอบ

National Test

# NT U.3



# ติวเข้ม แนวข้อสอบ NT U.3

หมายเลขหนังสือ ISBN

978-616-449-128-1

ผู้เขียน

ทีมติวเตอร์มหาวิทยาลัยธรรมศาสตร์

และกองบรรณาธิการฝ่ายวิชาการประถมศึกษา

สำนักพิมพ์ Think Beyond A<sup>+</sup>

บรรณาธิการบริหาร

กรภัทร์ สุทธิดาราร

บรรณาธิการ

นิกข์นิภา สหัสโยธิน

ศิลปกรรมปก-รูปเล่ม

วินัสสา ปั้นจาด

พิสูจน์อักษร

เจ้าขา

ประสานงานผลิต

สุนันทา เขียวสา

ตรวจสอบคุณภาพสินค้า

วรพล ณธิกุล, ปฐมพล ธรรมศรีสกุล,

มงคล แก้วพลอย, นิวัช ยะหัวดวง, พิพัฒน์ อัสสฤติย์

พิมพ์ครั้งที่ 1

พฤศจิกายน 2561

ราคา

250 บาท

ข้อมูลทางบรรณานุกรมของสำนักหอสมุดแห่งชาติ

National Library of Thailand Cataloging in Publication Data

ติวเข้ม แนวข้อสอบ NT U.3.-- นวนบุรี : ธิงค์ บียอนด์ บุ๊คส์, 2561.  
304 หน้า.

1. การศึกษาชั้นประถม--ข้อสอบและเฉลย. I. ชื่อเรื่อง.  
372.076

ISBN 978-616-449-128-1

สร้างสรรค์โดย



บริษัท ธิงค์ บียอนด์ บุ๊คส์ จำกัด

เลขที่ 200 หมู่ 4 ชั้น 19 ห้อง 1903A จัสมินอินเตอร์เนชั่นแนลทาวเวอร์  
ถนนแจ้งวัฒนะ ตำบลปากเกร็ด อำเภอปากเกร็ด จังหวัดนนทบุรี 11120

โทรศัพท์ 0 2962 1081, 0 2962 2626 (อัตโนมัติ 10 คู่สาย)

โทรสาร 0 2962 1084 [www.thinkbeyondbook.com](http://www.thinkbeyondbook.com)

จัดจำหน่ายทั่วประเทศโดย : บริษัท ไอดีซี พรีเมียร์ จำกัด

เลขที่ 200 หมู่ 4 ชั้น 19 ห้อง 1901 จัสมินอินเตอร์เนชั่นแนลทาวเวอร์

ถนนแจ้งวัฒนะ ตำบลปากเกร็ด อำเภอปากเกร็ด จังหวัดนนทบุรี 11120

โทรศัพท์ 0 2962 2626 (อัตโนมัติ 10 คู่สาย) โทรสาร 0 2962 1084

สำหรับร้านค้าและตัวแทนจำหน่าย : โทรศัพท์ 0 2962 2626 ต่อ 112-114 โทรสาร 0 2962 1084

สั่งซื้อออนไลน์ : [www.serazu.com](http://www.serazu.com) หรือโทรศัพท์ 08 4700 3219

จัดส่งฟรีทั่วประเทศ (ภายใต้เงื่อนไขที่เว็บไซต์กำหนด)

# จากใจสำนักพิมพ์

ข้อสอบ NT หรือการสอบประเมินคุณภาพการศึกษาขั้นพื้นฐาน เป็นการประเมินคุณภาพการศึกษาระดับชาติทำการจัดสอบโดยสำนักงานคณะกรรมการการศึกษาขั้นพื้นฐาน (สพฐ) ในการสอบครั้งนี้จะเป็นการใช้ประเมินคุณภาพการเรียนการสอน โดยจะใช้ข้อมูลของส่วนกลางเป็นมาตรฐานเดียวกัน เรียกได้ว่าสนามสอบ NT (National Test) นั้นเป็นอีกหนึ่งสนามสอบที่สำคัญของน้องๆ นักเรียนระดับชั้นประถมศึกษาปีที่ 3 เป็นอย่างมาก เพราะถือเป็นสนามสอบแข่งขันแรกที่น้องๆ จะได้ลงแข่งขันอย่างแท้จริง

หนังสือ **ติวเข้ม แนวข้อสอบ NT ป.3** เล่มนี้จึงถูกจัดทำขึ้นเพื่อใช้เป็นแนวทางในการพิชิตสนามสอบ NT โดยเนื้อหาจะรวบรวมเอาแนวข้อสอบทั้ง 3 ด้าน ดังนี้ ด้านภาษา เพื่อวัดความรู้ด้านการสื่อสาร ความรู้ความเข้าใจในการใช้ภาษาอย่างเหมาะสม ด้านการคำนวณ เพื่อประเมินทักษะการคำนวณทางด้านคณิตศาสตร์อย่างถูกต้อง และด้านการใช้เหตุผล เพื่อทดสอบในเรื่องความเข้าใจในการวิเคราะห์ข้อมูลและสถานการณ์ทางด้านวิทยาศาสตร์ สิ่งแวดล้อม สังคม อย่างมีเหตุและผล

โดยผู้จัดทำตั้งใจออกแบบแนวข้อสอบให้น้องๆ ได้ลองฝึกทำข้อสอบเสมือนจริงเพื่อเป็นการเตรียมตัวก่อนลงสนามสอบได้อย่างมีประสิทธิภาพมากที่สุด พร้อมคำอธิบายเฉลยที่ละเอียดชัดเจนและเข้าใจง่าย

ทางสำนักพิมพ์หวังเป็นอย่างยิ่งว่า หนังสือเล่มนี้จะช่วยให้นักเรียนเตรียมความพร้อมในการพิชิตคะแนนสอบ NT และพร้อมก้าวเข้าสู่โลกทางการศึกษาในยุค Thailand 4.0 อย่างเต็มศักยภาพ

สำนักพิมพ์ *Think Beyond A+*

# Content

บทนำ 8

## Part 1


แนวข้อสอบความสามารถด้านภาษา	19
ชุดที่ 1	20
เฉลยชุดที่ 1	32
ชุดที่ 2	35
เฉลยชุดที่ 2	48
ชุดที่ 3	51
เฉลยชุดที่ 3	61
ชุดที่ 4	64
เฉลยชุดที่ 4	75
ชุดที่ 5	79
เฉลยชุดที่ 5	93

## Part 2

แนวข้อสอบความสามารถด้านการคำนวณ	99
ชุดที่ 1	100
เฉลยชุดที่ 1	115
ชุดที่ 2	124
เฉลยชุดที่ 2	141
ชุดที่ 3	148
เฉลยชุดที่ 3	161
ชุดที่ 4	166
เฉลยชุดที่ 4	180
ชุดที่ 5	186
เฉลยชุดที่ 5	201

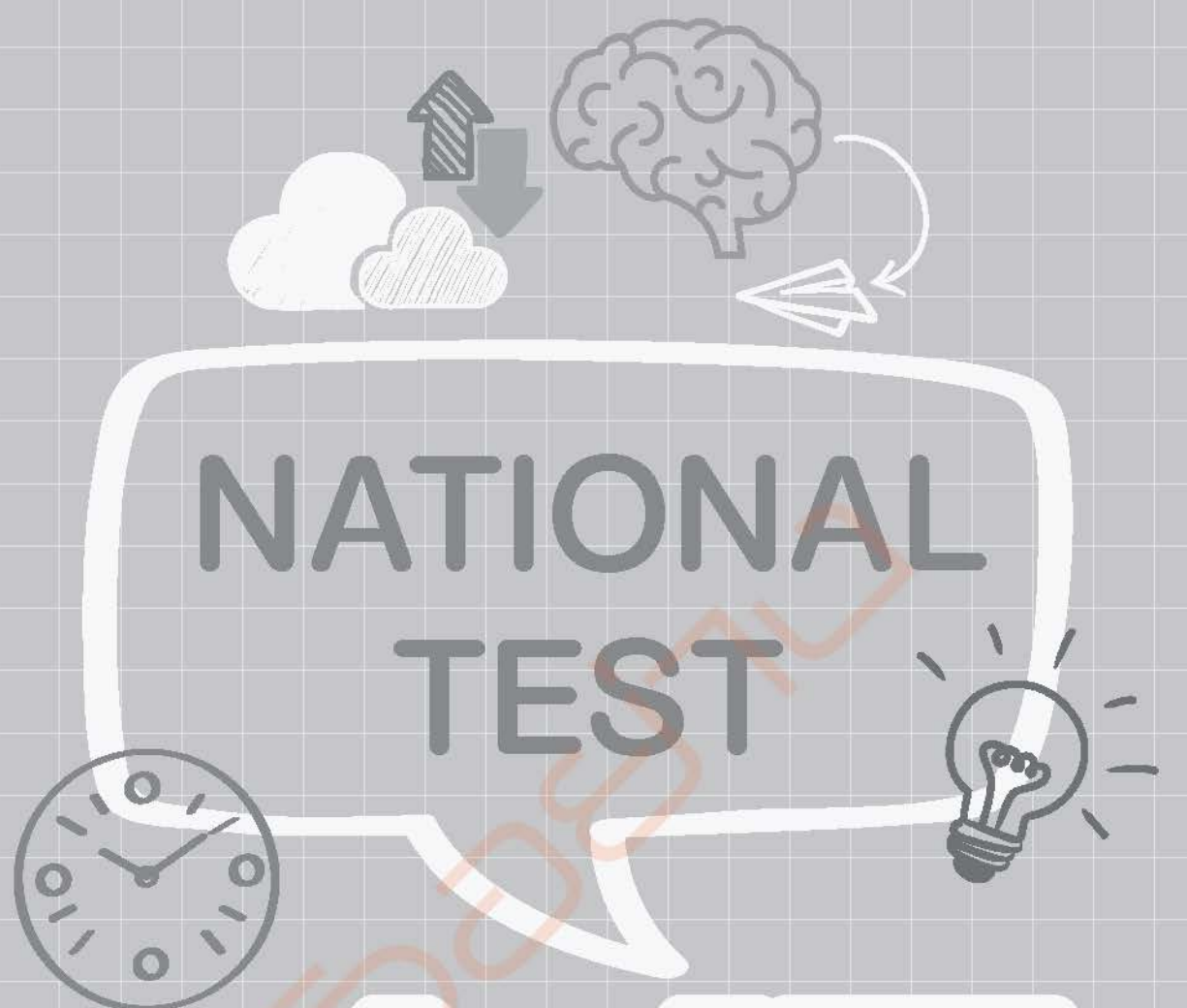
### Part 3

แนวข้อสอบความสามารถด้านการใช้เหตุผล	209
ชุดที่ 1	210
เฉลยชุดที่ 1	223
ชุดที่ 2	228
เฉลยชุดที่ 2	241
ชุดที่ 3	246
เฉลยชุดที่ 3	259
ชุดที่ 4	265
เฉลยชุดที่ 4	278
ชุดที่ 5	286
เฉลยชุดที่ 5	298




CTD

**การทดสอบ  
ความสามารถพื้นฐาน  
ของผู้เรียนระดับชาติ  
National Test**



# NATIONAL TEST

# NT






# บทนำ

สวัสดีท่านพ่อแม่ ผู้ปกครอง และน้องๆ ผู้ถือหนังสือเล่มนี้อยู่ในมือทุกท่าน การเรียนการสอนในปัจจุบันมีการแข่งขันกันสูง การสอบวัดระดับเพื่อเลื่อนระดับชั้นเรียนที่สูงขึ้นมีความยุ่งยาก เมื่อเทียบกับสมัยของผู้เขียนจะพบความแตกต่างเป็นอย่างยิ่ง มีการเปลี่ยนแปลงจากความเรียบง่ายในอดีตที่ให้ภาครัฐเปิดสอบ แล้ววัดคะแนนที่สอบได้ ใครคะแนนสูงกว่าก็ได้สิทธิ์ในการเลือกเป็นอันดับแรก กลายเป็นความยุ่งยากซับซ้อนในการทดสอบเก็บคะแนนเป็นช่วงชั้น ชั้น ป.3 ระหว่างภาคเรียนชั้น ป.4-6 การสอบ GAT PAT ต่างๆ นานาเหล่านี้เป็นสิ่งที่พ่อแม่ ผู้ปกครอง และน้องๆ ต้องปรับตัว และเตรียมพร้อมตัวเองเพื่อให้สามารถรับมือกับการสอบเหล่านี้โดยไม่เครียดหรือสนุกไปกับมันได้

หนังสือเล่มนี้จะพาทุกท่านไปรู้จักกับรูปแบบหนึ่งของการสอบแข่งขันที่น้องๆ โดยเฉพาะน้องๆ ในระดับชั้น ป.3 จะต้องเข้ารับการทดสอบประจำปี คือ “การทดสอบความสามารถพื้นฐานของผู้เรียนระดับชาติ” (National Test : NT) ผู้เขียนได้รวบรวมและจัดทำแบบทดสอบและแนวทางในการตอบข้อสอบ เพื่อให้น้องๆ ได้ฝึกทักษะและเตรียมความพร้อมตัวเองก่อนไปทำข้อสอบของจริง ดังนั้น เพื่อเป็นการปูพื้นฐานและเตรียมความพร้อมก่อนที่เราจะเข้าไปสู่การฝึกทักษะดังกล่าว เราควรที่จะรู้จักกันก่อนว่า “การทดสอบความสามารถพื้นฐานของผู้เรียนระดับชาติ” (National Test : NT) คืออะไร

# National Test คืออะไร

การสอบ NT



การทดสอบความสามารถ  
พื้นฐานของผู้เรียนระดับชาติ (NT)  
หมายถึง การประกันการเรียนรู้และ  
รับรองมาตรฐาน เพื่อตรวจสอบทักษะ  
ความสามารถของนักเรียนชั้นประถม  
ศึกษาปีที่ 3 ในด้านการอ่าน เขียน คิด  
คำนวณ และผลสัมฤทธิ์ 3 กลุ่มสาระ  
หลัก คือ กลุ่มสาระการเรียนรู้ภาษาไทย  
คณิตศาสตร์ และวิทยาศาสตร์

กลุ่มเป้าหมาย

นักเรียนชั้นประถมศึกษาปีที่ 3  
ทุกสังกัดทั่วประเทศ

วิชาที่ใช้สอบ

เป็นชุดข้อสอบที่ใช้  
มาตรฐานเดียวกัน  
กับการทดสอบ  
นานาชาติ (PISA)  
ซึ่งเน้นการทดสอบ  
ใน 3 ด้าน คือ

← ความสามารถด้านภาษา

← ความสามารถด้านการคำนวณ

← ความสามารถด้านการใช้เหตุผล

## ตารางโครงสร้างข้อสอบ

แบบทดสอบความสามารถ	จำนวนข้อ	คะแนนเต็ม	เวลา (นาที)
ด้านภาษา (Literacy)	30	35	60
ด้านคำนวณ (Numeracy)	30	35	90
ด้านเหตุผล (Reasoning Abilities)	30	35	60
รวมทั้งสิ้น	90	105	210

## ระยะเวลาที่ใช้ในการสอบ

วันสอบ	เวลา	วิชา	เวลา (นาที)
วันที่สอบตาม ที่หน่วยงาน กระทรวง ศึกษาธิการกำหนด (ช่วงต้น เดือนมีนาคม)	09.00 - 10.00 น.	ความสามารถ ด้านภาษา	60 นาที
	พัก 30 นาที		
	10.30 - 12.00 น.	ความสามารถ ด้านการคำนวณ	90 นาที
	พัก 60 นาที		
	13.00 - 14.00 น.	ความสามารถ ด้านการใช้เหตุผล	60 นาที

# ความสามารถพื้นฐานของผู้เรียน

## 1. ความสามารถด้านภาษา (Literacy)

- บอกความหมายของคำและประโยคจากเรื่องที่ฟัง-ดู / อ่าน
- บอกความหมายของเครื่องหมาย / สัญลักษณ์
- ตอบคำถามจากเรื่องที่ฟัง-ดู / อ่าน
- บอก เล่าเรื่องราวที่ได้ฟังจากการฟัง-ดู / อ่านอย่างง่ายๆ
- คาดคะเนเหตุการณ์ที่จะเกิดขึ้นจากเรื่องที่ฟัง-ดู / อ่าน
- สื่อสารความรู้ ความเข้าใจ ข้อคิดเห็นจากเรื่องที่ฟัง-ดู / อ่านอย่างเหมาะสม

### การให้คะแนน

ข้อสอบ	จำนวน (ข้อ)	คะแนน	หมายเหตุ
1. ข้อสอบ แบบเลือก ตอบ	27 (ข้อ 1-27)	ข้อละ 1 คะแนน	(ในแต่ละข้อจะมี 4 ตัวเลือกให้นักเรียนระบาย ในกระดาษคำตอบ)
2. ข้อสอบ แบบเขียน ตอบสั้น	2 (ข้อ 28-29)	ข้อละ 2 คะแนน	(สำหรับให้กรรมการ ระบายคะแนนลงกระดาษ คำตอบแต่ละข้อ จะมีคะแนน 0, 1, 2)
3. ข้อสอบ แบบเขียน ตอบอิสระ	1 (ข้อ 30)	ข้อละ 4 คะแนน	(สำหรับให้กรรมการ ระบายคะแนนลงกระดาษ คำตอบ จะมีคะแนน 0, 1, 2, 3, 4)

## ตัวอย่างข้อสอบ

จงอ่านบทร้อยกรองต่อไปนี้ และตอบคำถาม

โลกนี้คงงามด้วยความรัก ที่เป็นหลักหลอมใจไว้ยึดเหนี่ยว  
เราไม่อาจอยู่ได้โดยคนเดียว ต้องข้องเกี่ยวพึ่งพาอาศัยกัน

บทร้อยกรองนี้มีความหมายสอดคล้องกับสำนวนใด

1. รักวัวให้ผูก รักลูกให้ตี
2. คนเดียวหัวหาย สองคนเพื่อนตาย
3. คนรักเท่าผืนหนัง คนชังเท่าผืนเสื่อ
4. เพื่อนกินหาง่าย เพื่อนตายหายาก

ตอบ 2.

เพราะความหมายโดยสรุปของบทร้อยกรองที่ยกมา กล่าวถึงความรักและการพึ่งพาอาศัยซึ่งกันและกัน ซึ่งสอดคล้องกับสำนวน “คนเดียวหัวหาย สองคนเพื่อนตาย”

## 2. ความสามารถด้านการคำนวณ (Numeracy)

- ความคิดรวบยอดด้านจำนวนและการดำเนินการ
- ความคิดรวบยอดด้านการวัด
- ความคิดรวบยอดด้านเรขาคณิต
- ความคิดรวบยอดด้านการวิเคราะห์ข้อมูลและความน่าจะเป็น

## การให้คะแนน

ข้อสอบ	จำนวน (ข้อ)	คะแนน	หมายเหตุ
1. ข้อสอบ แบบเลือก ตอบ	27 (ข้อ 1-27)	ข้อละ 1 คะแนน	(ในแต่ละข้อจะมี 4 ตัวเลือกให้นักเรียนระบาย ในกระดาษคำตอบ)
2. ข้อสอบ แบบเขียน ตอบสั้น	2 (ข้อ 28-29)	ข้อละ 1 คะแนน	(สำหรับให้กรรมการ ระบายคะแนนลงกระดาษ คำตอบแต่ละข้อ จะมีคะแนน 0, 1)
3. ข้อสอบ แบบเขียน ตอบอิสระ	1 (ข้อ 30)	ข้อละ 6 คะแนน	(สำหรับให้กรรมการ ระบายคะแนนลงกระดาษ คำตอบ จะมีคะแนน 0, 1, 2, 3, 4, 5, 6)

## ตัวอย่างข้อสอบ

พนักงาน 4 คน ได้รับเงินค่าตอบแทนประจำปี  
จากบริษัทแห่งหนึ่ง เป็นดังนี้

จำ :  $4,000 + 200 + 30 + 5$  บาท

แจ้ว :  $7 + 50 + 800 + 7,000$  บาท

จอย :  $(3 \times 1) + (6 \times 10) + (7 \times 100) + (8 \times 1,000)$  บาท

เจียบ :  $(5 \times 1,000) + (7 \times 100) + (8 \times 10) + (6 \times 1)$  บาท

จากข้อมูลข้างต้น ข้อใดถูกต้อง

1. แจ๋ว ได้รับเงินค่าตอบแทนมากกว่าจอย
2. เจี๊ยบ ได้รับเงินค่าตอบแทนน้อยกว่าจำ
3. จอย เจี๊ยบ แจ๋ว และจำ ได้รับเงินค่าตอบแทนจากมากไปน้อย ตามลำดับ
4. จำ เจี๊ยบ แจ๋ว และจอย ได้รับเงินค่าตอบแทนจากน้อยไปมาก ตามลำดับ

ตอบ 4.

เพราะนักเรียนเข้าใจเรื่องค่าประจำตำแหน่งของตัวเลขในแต่ละหลักหรือสามารถคูณจำนวนนับกับจำนวน 10, 100, 1,000 ได้ และบวกจำนวนนับได้ จึงสามารถบอกได้ว่าจำนวนนับใดมีค่ามากหรือน้อยกว่ากัน จึงเรียงลำดับได้ถูกต้อง

### 3. ความสามารถในการใช้เหตุผล (Reasoning Abilities)

- มีความรู้ความเข้าใจในข้อมูลสารสนเทศด้านวิทยาศาสตร์และสิ่งแวดล้อม ด้านสังคม เศรษฐกิจ และการดำเนินชีวิตอย่างมีเหตุผล
- วิเคราะห์ข้อมูล สถานการณ์ หรือสารสนเทศ โดยใช้องค์ความรู้ด้านวิทยาศาสตร์ สิ่งแวดล้อม ด้านสังคมศาสตร์ เศรษฐศาสตร์ และด้านการดำเนินชีวิตอย่างมีเหตุผล

- สามารถสร้างข้อสรุปใหม่ ออกแบบ วางแผน บนพื้นฐานของ ข้อมูล สถานการณ์ หรือสารสนเทศที่ผ่านการวิเคราะห์ โดยใช้องค์ความรู้ด้านวิทยาศาสตร์ สิ่งแวดล้อม ด้านสังคมศาสตร์ เศรษฐศาสตร์ และด้านการดำเนินชีวิตอย่างมีเหตุผล
- ให้ข้อสนับสนุน / โต้แย้งเพื่อการตัดสินใจและแก้ปัญหาอย่าง มีหลักการและเหตุผล คำนึงถึงคุณธรรมและจริยธรรม ค่านิยม ความเชื่อในกรณีที่มีสถานการณ์ที่ต้องการตัดสินใจ / มีปัญหา


### การให้คะแนน

ข้อสอบ	จำนวน (ข้อ)	คะแนน	หมายเหตุ
1. ข้อสอบ แบบเลือก ตอบ	27 (ข้อ 1-27)	ข้อละ 1 คะแนน	(ในแต่ละข้อจะมี 4 ตัวเลือกให้นักเรียนระบาย ในกระดาษคำตอบ)
2. ข้อสอบ แบบเขียน ตอบสั้น	2 (ข้อ 28-29)	ข้อละ 2 คะแนน	(สำหรับให้กรรมการ ระบายคะแนนลงกระดาษ คำตอบแต่ละข้อ จะมีคะแนน 0, 1, 2)
3. ข้อสอบ แบบเขียน ตอบอิสระ	1 (ข้อ 30)	ข้อละ 4 คะแนน	(สำหรับให้กรรมการ ระบายคะแนนลงกระดาษ คำตอบ จะมีคะแนน 0, 1, 2, 3, 4)



## ตัวอย่างข้อสอบ

พิจารณารูปภาพต่อไปนี้ แล้วจงตอบคำถาม



ภาพที่ 1


ภาพที่ 2

จากภาพ วิธีการกำจัดขยะของนักเรียนในภาพใดดีกว่ากัน เพราะเหตุใด


1. ภาพที่ 1 ดีกว่า เพราะไม่ต้องเสียเวลาขุดหลุม
2. ภาพที่ 1 ดีกว่า เพราะกำจัดขยะได้รวดเร็วมีอันตรายน้อย
3. ภาพที่ 2 ดีกว่า เพราะสามารถสร้างมูลค่าเพิ่มได้
4. ภาพที่ 2 ดีกว่า เพราะขยะย่อยสลายโดยธรรมชาติและเป็นปุ๋ยให้ต้นไม้

ตอบ 4.


เพราะวิธีการฝังกลบขยะเป็นการย่อยสลายขยะโดยวิธีธรรมชาติและยังเป็นปุ๋ยให้พืชได้



# Part 1




# แนวข้อสอบ ความสามารถด้าน ภาษา




ความสามารถด้าน  
**ภาษา**

**1**



# ชุดที่ 1



## ตอนที่ 1 แบบเลือกปรนัย 4 ตัวเลือก (27 ข้อ)

ข้อ 1-27 ให้นักเรียนเลือกคำตอบที่ถูกต้องที่สุดเพียงข้อเดียว

1. “ผู้ชายที่หมายปองผู้หญิงที่มีฐานะดีกว่าตัวเอง”  
จากข้อความดังกล่าวตรงกับสำนวนไทยข้อใด
  1. กระต่ายขาเดียว
  2. กระต่ายหมายจันทร์
  3. กระต่ายตื่นตูม
  4. กระตี่ได้น้ำ
2. “ทำตามขนบธรรมเนียมประเพณี ส่วนใหญ่มุ่งหมายถึงการแต่งงาน”  
จากข้อความดังกล่าวตรงกับสุภาษิตไทยข้อใด
  1. เข้าเมืองตาหลิ่ว ต้องหลิ่วตาตาม
  2. คบคนให้ดูหน้า ซื้อผ้าให้ดูเนื้อ
  3. เข้าตามตรอก ออกตามประตู
  4. คลุมถุงชน
3. คบคนพาล พาลพาไปหาผิด คบบัณฑิต บัณฑิตพาไปหาผล  
คำว่า “บัณฑิต” หมายถึงบุคคลที่มีลักษณะอย่างไร
  1. ผู้มีปัญญา มีความรู้ นักปราชญ์
  2. ผู้ที่มีจิตใจงดงาม
  3. ผู้ที่มีความเมตตาต่อผู้อื่น
  4. ผู้ที่สำเร็จการศึกษาสูงสุด

4. ประเดิมเล่นละคร “ฟ้ามีตา” ครั้งแรก ก็-รรฐกร ก็เจองานหนักกับบทบาท คุณแม่ยังสาวซีหึงวินเหวียง

คำว่า “ประเดิม” มีความหมายตรงกับข้อใด

1. แลกเปลี่ยน
2. ลงทุนลงแรง
3. เริ่มแรก
4. ลองเสี่ยง

5. เตรียมรับมือให้ดี กรมอุตุนิยมวิทยาประกาศ พายุ “ดีเปรสชัน” บริเวณอ่าวไทย แสดงว่าสภาพอากาศเป็นอย่างไร

1. มีฝนตกปานกลางถึงตกหนัก
2. อากาศร้อนถึงร้อนจัด
3. อากาศเย็นลง
4. มีสภาพอากาศแปรปรวน

6.



จากภาพ เกี่ยวข้องกับเรื่องใด

1. ห้ามพูด
2. ห้ามตะโกน
3. ห้ามส่งเสียงดัง
4. ห้ามไอ

7. การที่คุณยอมทำอะไรก็ตาม ตามที่ใครสักคนบอกให้คุณทำ คุณเชื่อคนคนนั้นเพราะคนคนนั้นมีอิทธิพลกับคุณไม่ทางใดก็ทางหนึ่ง จนถูกคนอื่นมองว่าเป็นคนหัวอ่อน

คำว่า “หัวอ่อน” มีลักษณะอย่างไร

1. ไม่สนใจคนรอบข้าง
2. วาง่าย สอนง่าย บอกอะไรก็เชื่อ
3. เอาแต่ใจตนเอง
4. ก้มหน้าก้มตาทำโดยไม่สนใจใคร

8. ข้อใดไม่ได้มีความหมายว่า “ดอกไม้”

- |             |          |
|-------------|----------|
| 1. บุชบา    | 2. บุปผา |
| 3. บุปผชาติ | 4. บุพเพ |

9. ในประเพณีแข่งวัวเทียมเกวียน จะมีเกวียนคนละ 1 .....  
เพื่อเข้าร่วมแข่งขัน ข้อใดคือลักษณะนามของเกวียนที่ถูกต้อง

- |        |         |
|--------|---------|
| 1. ลำ  | 2. เล่ม |
| 3. อัน | 4. คัน  |

10. ประเทศไทยรวมเลือดเนื้อชาติเชื้อไทย เป็นประชารัฐไผทของไทย  
ทุกส่วน

คำว่า “ไผท” ในเนื้อหาตอนหนึ่งของเพลงชาติไทย มีความหมาย  
ตรงกับข้อใด

- |               |                 |
|---------------|-----------------|
| 1. ประเทศไทย  | 2. ภาษาไทย      |
| 3. แผ่นดินไทย | 4. ข้าราชการไทย |


11. อุทยานประวัติศาสตร์พิมาย หรือที่หลายๆ ท่านเรียกกันสั้นๆ ว่า  
“ปราสาทหินพิมาย” เป็นพุทธสถานในนิกายมหายานที่มีขนาดใหญ่  
ที่สุดในประเทศไทย จากการศึกษาหลักฐานทางประวัติศาสตร์ต่างๆ  
เชื่อว่าปราสาทหินพิมายสร้างขึ้นในสมัยพระเจ้าศรีชัยวรินทร์  
กษัตริย์แห่งอาณาจักรขอม ราวพุทธศตวรรษที่ 16-17 หลังจากนั้น  
ในช่วงศตวรรษที่ 18 กษัตริย์ขอมอีกหลายพระองค์ได้มีการบูรณะ  
ปฏิสังขรณ์ และก่อสร้างปราสาทหินพิมายเพิ่มเติม โดยลักษณะ  
ผังของปราสาทหินพิมายนั้นสร้างขึ้นคล้ายเขาพระสุเมรุตามคติ  
ความเชื่อเกี่ยวกับสวรรค์และโลกมนุษย์ โดยมีปราสาทหินพิมาย  
เสมือนประหนึ่งเป็นทางเชื่อมระหว่างโลกกับสวรรค์





การทดสอบ  
ความสามารถพื้นฐาน  
ของผู้เรียนระดับชาติ  
National Test

สรุปเทคนิค จับประเด็น ข้อสอบ  
พร้อมตัวอย่างข้อสอบพร้อมคำอธิบาย  
รวบรวมข้อมูลสำหรับผู้ปกครองควรรู้  
สำหรับพิชิตสนามสอบ NT



ISBN 885-909-930-581-5



8 859099 305815

ราคา 339 บาท

[www.thinkbeyondbook.com](http://www.thinkbeyondbook.com)