

เตรียมหนู  
เข้า  
บ.1

# คณิตศาสตร์



ฟรี  
สติกเกอร์  
45



จัดทำโดย สำนักพิมพ์ SKYKIDS  
515/276-8 ถ.รังสิต-ปทุมธานี ต.ประชาธิปัตย์ อ.ธัญบุรี จ.ปทุมธานี 12130








เจ้าของ ผู้พิมพ์ผู้โฆษณา สำนักพิมพ์ SKYKIDS  
บรรณาธิการอำนวยการ พ้องเพ็ญ อาษาเทวัญ  
บรรณาธิการ รุ่งโรจน์ อาษาเทวัญ, รัตนา ภูมิพิทักษ์  
ออกแบบปก ศรินทิพย์ ใจปทุม  
คอมพิวเตอร์กราฟิก อามน แสงยิ่ง  
พิสูจน์อักษร สิริพรรณ โพธิ์ศรีสุข



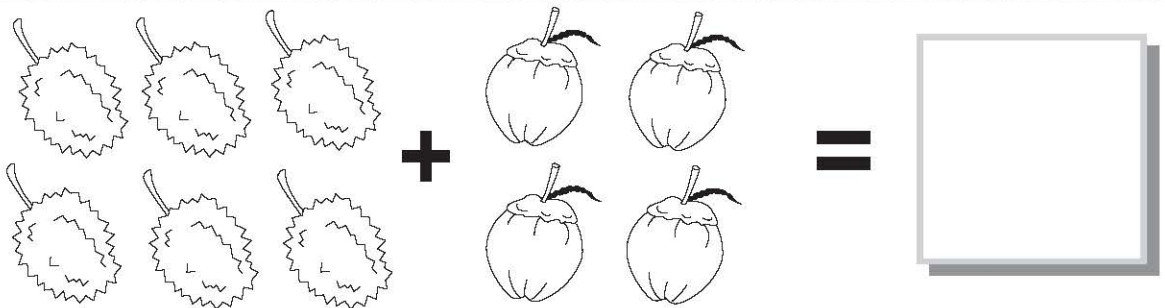
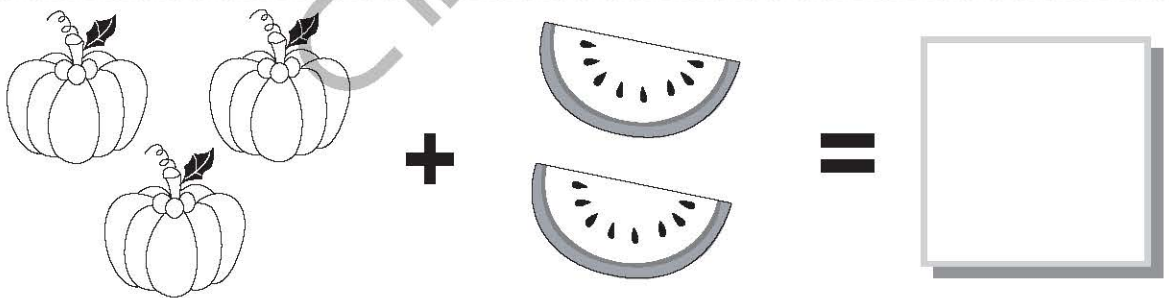


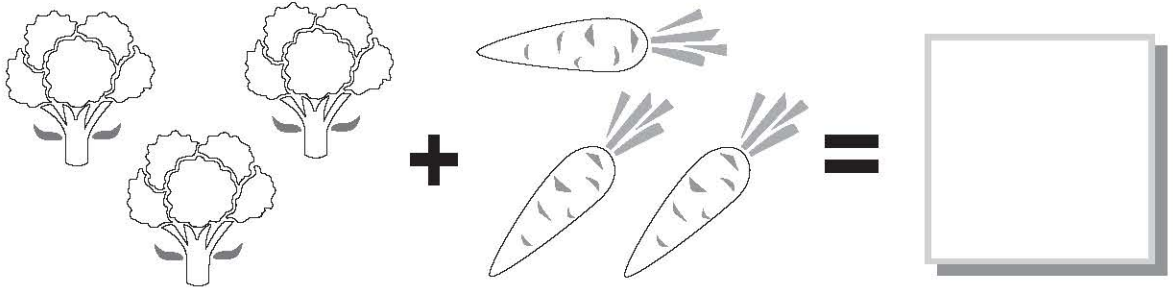
จัดจำหน่ายโดย บริษัท สกายบุ๊กส์ จำกัด  
515/276-8 ถ.รังสิต-ปทุมธานี ต.ประชาธิปัตย์ อ.ธัญบุรี จ.ปทุมธานี 12130  
โทรศัพท์ 0-2958-1125-7, 0-2567-5119 โทรสาร 0-2567-5105  
e-mail: sales@skybook.co.th www.skybook.co.th

ราคา **35** บาท  
(สงวนลิขสิทธิ์)

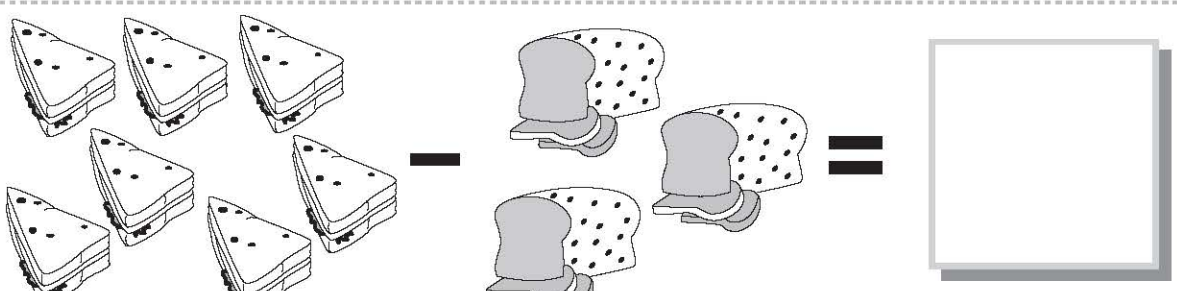
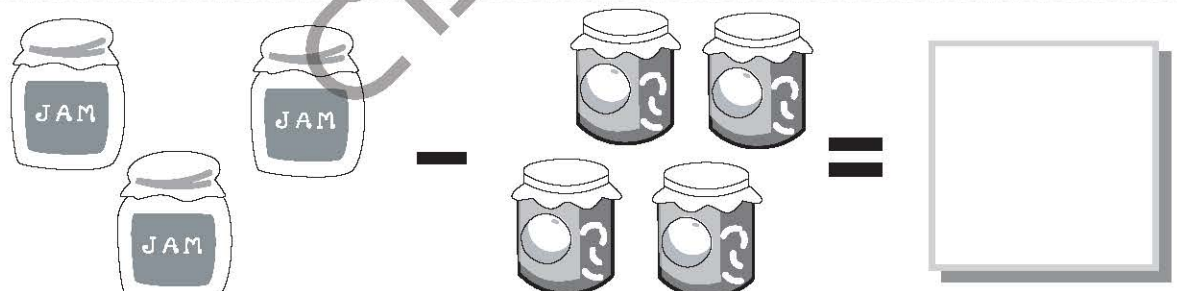
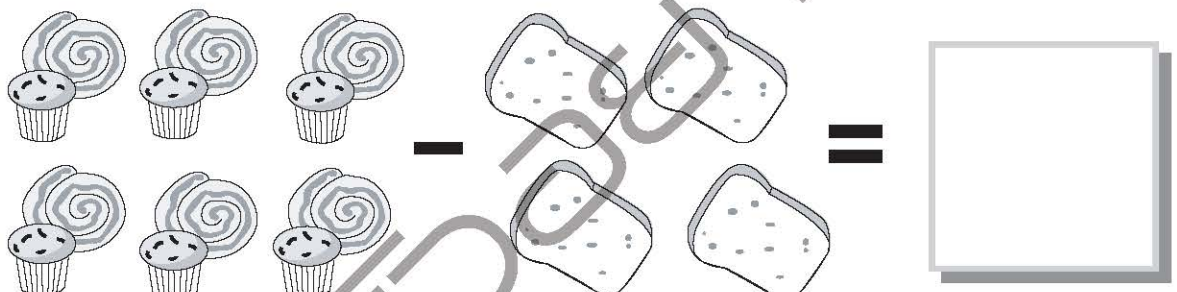
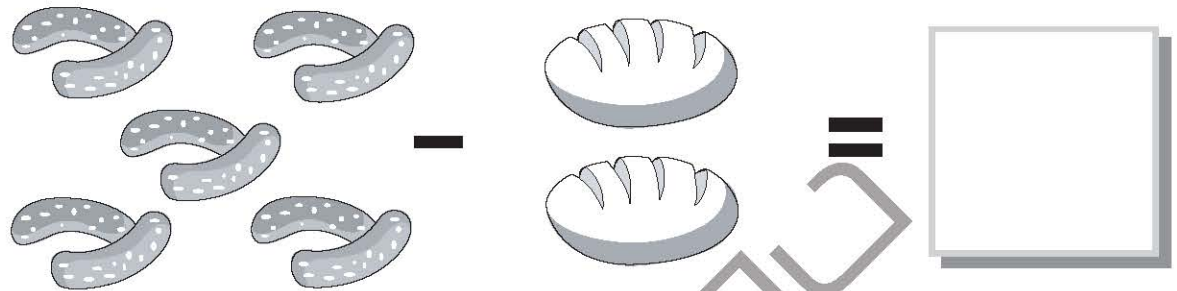
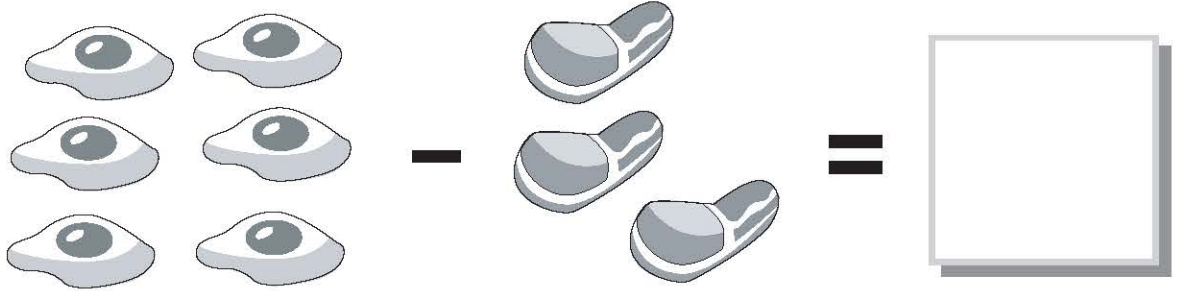
ให้เด็กๆ เติมตัวเลขที่ขาดหายไปให้สมบูรณ์



ให้เด็กๆ บวกจำนวนภาพที่กำหนดให้แล้วเติมคำตอบลงในช่องว่าง

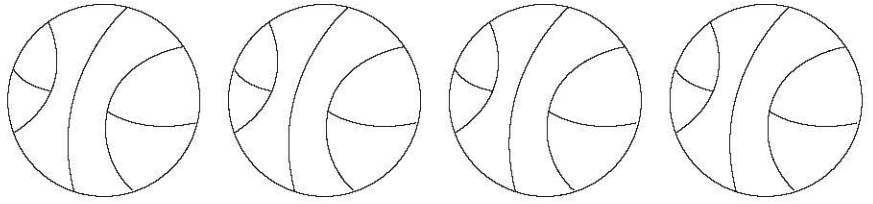


ให้เด็กๆ ลบจำนวนภาพที่กำหนดให้แล้วเติมคำตอบลงช่องว่าง

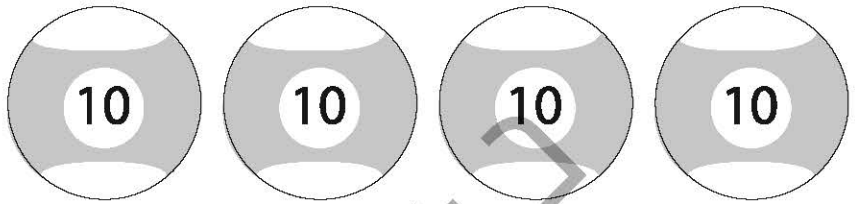


ให้เด็กๆ ระบายสีภาพให้มีจำนวนเท่ากับตัวเลขด้านซ้ายมือ

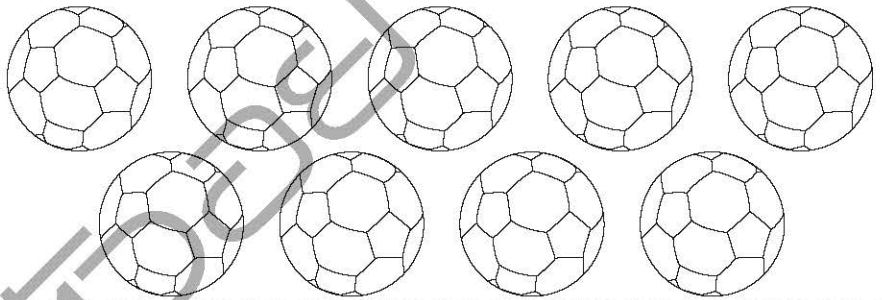
1



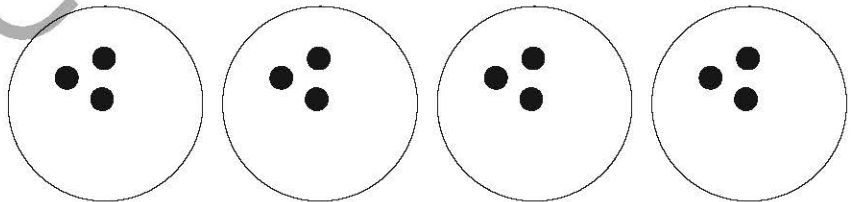
3



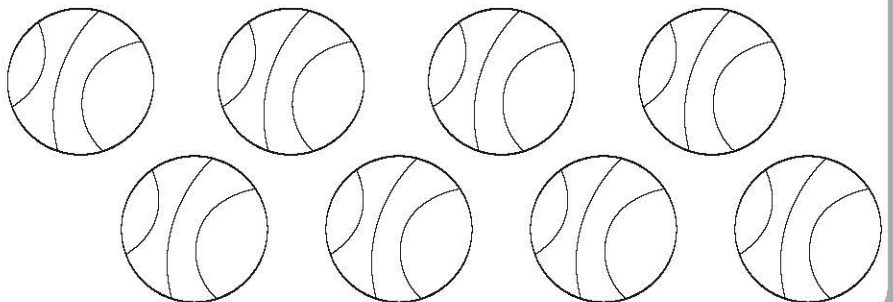
5



2




6



ให้เด็กๆ ระบายสีภาพให้มีจำนวนเท่ากับตัวเลขด้านซ้ายมือ

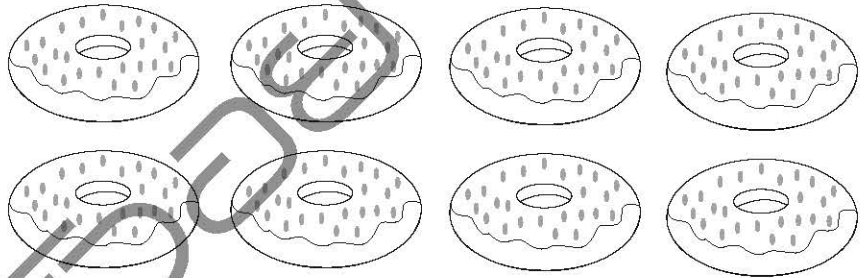
2



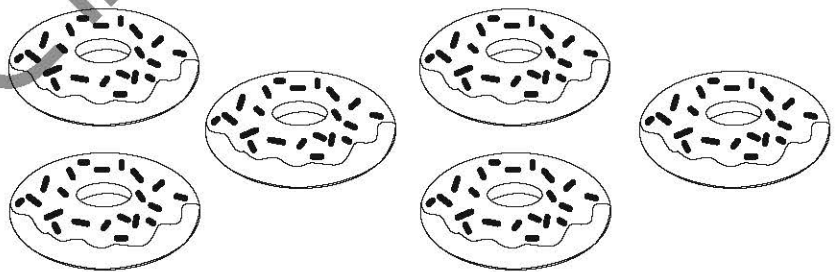
1



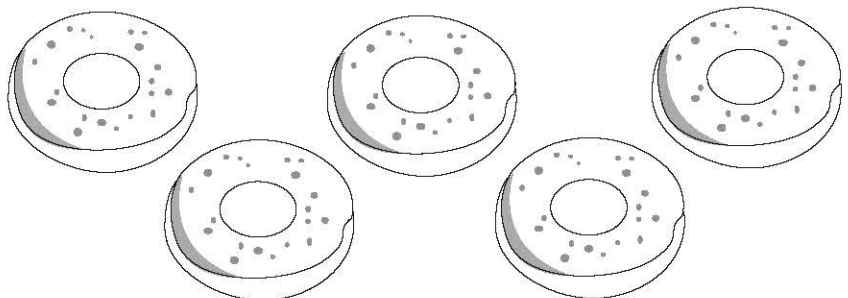
4




5



3



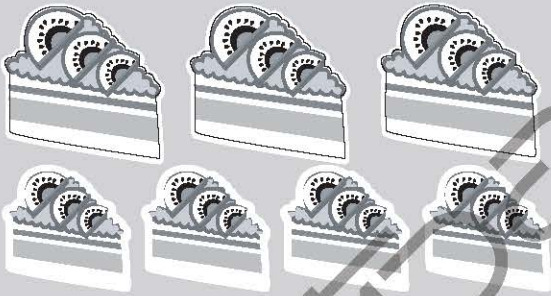
ให้เด็กๆ วงกลมตัวเลขที่มีค่าเท่ากับจำนวนภาพด้านซ้ายมือ



3 4 5



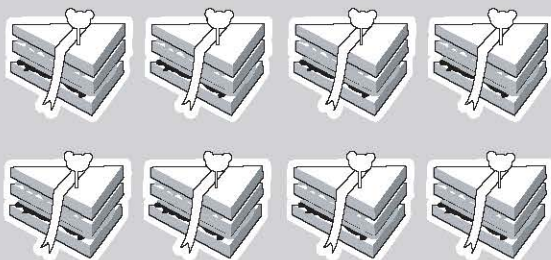
8 9 10



5 7 3




5 3 2




5 8 4



ให้ได้ๆ วงกลมตัวเลขที่มีค่าเท่ากับจำนวนภาพด้านซ้ายมือ



5 6 7



4 5 7



5 8 3




5 8 9



3 5 6

ให้เด็กๆ โยงตัวเลขให้ตรงกับภาพที่มีจำนวนเท่ากัน


4



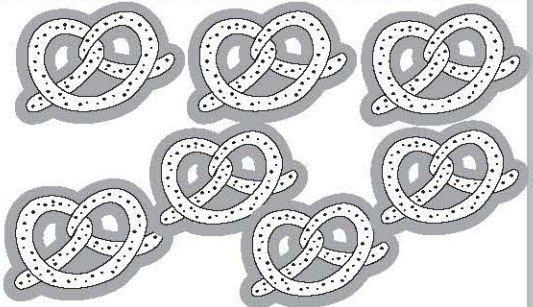
7



6



5



8

