



มดตะนอย

SkyKids

คณิตศาสตร์เรียนรู้

สำหรับเด็ก 3-6 ปี

ทบทวน บวกลบเลข 1-10



ฟรีสติ๊กเกอร์





เด็กๆ ช่วยเติมตัวเลขลงในช่องว่าง
จำนวนเจ้าเสือน้อยให้ถูกต้องนะคะ




ที่เมื่อบวกลบกันแล้วได้ค่าเท่ากับ

3
-

1
+



4
-



เฉลยจ้า

3 - 1 = 2
1 + 1 = 2
4 - 2 = 2

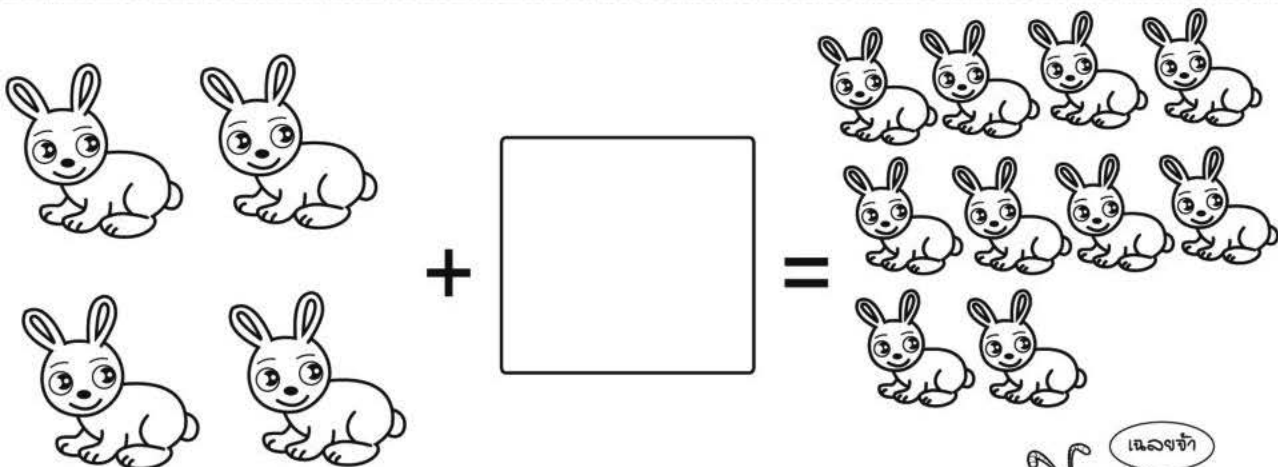
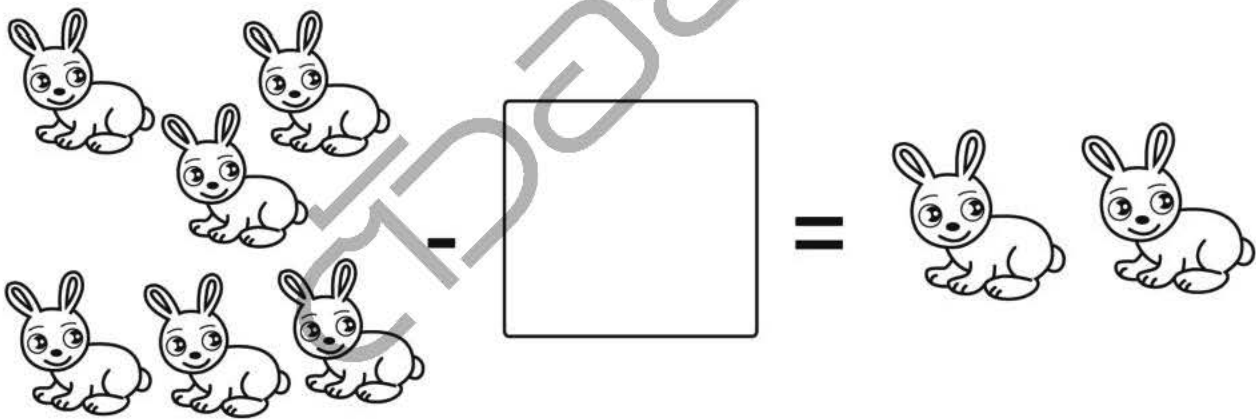
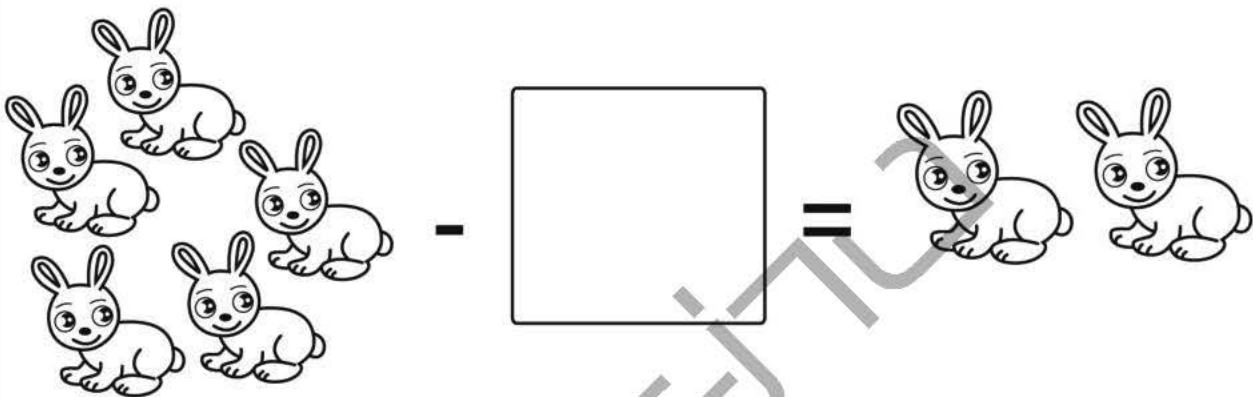


เด็กๆ ช่วยวาดรูปกระต่ายตามจำนวนที่ให้มา ลงใน ที่เมื่อบวกลบกันแล้ว
ได้คำตอบเท่ากับจำนวนเพื่อนๆ กระต่ายที่อยู่ทางขวามือให้ถูกต้องนะคะ

3

4

6



$$5 - 3 = 2$$

$$6 - 4 = 2$$

$$4 + 6 = 10$$



เด็กๆ ช่วยโยงเส้นหาคำตอบผลบวกผลลบที่ถูกต้องจากโจทย์ที่
มดตะนอยให้มานะจ๊ะ

$$\begin{array}{r} 7 \\ - 5 \\ \hline \end{array}$$



2



$$\begin{array}{r} 6 \\ + 4 \\ \hline \end{array}$$



2



$$\begin{array}{r} 8 \\ - 6 \\ \hline \end{array}$$



10



เฉลยจ้า

7 - 5 = 2
6 + 4 = 10
8 - 6 = 2



เด็กๆ ช่วยกันหาคำตอบจากโจทย์ผลบวกผลลบที่ให้มา โดยเติมเป็นตัวเลขลงใน ให้ถูกต้องนะคะ



3 ants + 7 ants



10 ants - 5 ants

10 ants - 3 ants



เฉลยจ้า

3 + 7 = 10
10 - 8 = 2
9 - 7 = 2

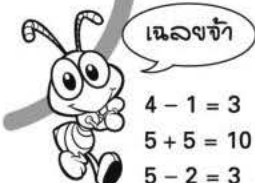


เด็กๆ เดินทางไปสวนสนุก แต่ระหว่างทางต้องเติมตัวเลขที่เป็นคำตอบ
ของโจทย์ที่ให้มาระหว่างทาง ไว้ใน ให้ถูกต้องนะคะ

$$4 - 1 = \boxed{}$$

$$5 + 5 = \boxed{}$$

$$5 - 2 = \boxed{}$$





เด็กๆ วงกลม ○ รอบเจ้าปลาให้เท่ากับคำตอบของโจทย์ผลบวกผลลบที่ให้มา
พร้อมทั้งเติมคำตอบเป็นตัวเลขลงใน □ ให้ถูกต้องนะจ๊ะ



	8
	$+$
	2
	<hr/>
	<input type="text"/>

	8
	$-$
	4
	<hr/>
	<input type="text"/>

	1
	$+$
	9
	<hr/>
	<input type="text"/>






เฉลยจ้า

$8 + 2 = 10$
 $8 - 4 = 4$
 $1 + 9 = 10$



เด็กๆ นำตัวเลขที่อยู่บนตัวของเจ้าลิงน้อยมาบวกหรือลบกัน แล้วเติมคำตอบที่ได้ลงบนตัวของเจ้าลิงน้อยอีกตัวที่ยังไม่มีตัวเลขนะจ๊ะ



เฉลยจ้า

8 - 5 = 3
1 + 2 = 3
9 - 6 = 3